

※請用 2B 鉛筆將答案清楚畫記在答案卡上

(每題 2.5 分，滿分 100 分)

一、題組



《騎吧！哈林小隊》由藝人隊長哈林領軍，帶著小隊員卜學亮、柯有倫、彭小刀、張庭瑚、周予天，挑戰 18 天騎單車環島，同時深度體驗當地的特色活動，最終齊心完成任務。(圖／好看娛樂)

七導老師群看著如此熱血精彩的環騎實境節目，也開始進行規劃他們的騎乘夢想清單內容…(1-5 題)

1. ( ) 他們首站從八里國中出發，騎到十三行博物館正門口先拍下首張團體照！館內展示著遺址出土物文化層，請依據下列出土物內容，判別出文化層由『上層到下層』挖掘的排列順序應為？

甲遺址 燃燒的灰爐 磨製的石器 陶器的碎片	乙遺址 玻璃的飾品 熔化的鐵渣 陶器的碎片	丙遺址 燃燒的灰爐 打製的石器 骨製的魚叉
--------------------------------	--------------------------------	--------------------------------

(A) 甲乙丙 (B) 乙甲丙 (C) 乙丙甲 (D) 甲丙乙。

2. ( ) 接著河濱自行車道來到『圓山文化遺址』：



看到石碑上詳細記載著此一文化特色與演變，判斷出以下敘述內容最可能出現在石碑上？

- (A) 此文化遺址為目前臺灣最古老的史前文化
- (B) 此文化遺址出土大量的石板棺與玉器耳飾
- (C) 此文化遺址出土貝塚，顯示臺北湖曾存在
- (D) 此文化遺址出土了鐵渣與稀有的玻璃手環。

3. ( ) 來到中臺灣，一定要到臺灣極中點的南投一遊！騎乘一段臺灣最美的『日月潭水上自行車道』來場當地部落導遊娓娓道來他們祖先的『白鹿』傳說與此潭定居的精彩故事！當地的部落導遊應該是哪一原住民族？



- (A) 排灣族 (B) 賽夏族 (C) 邵族 (D) 鄒族。

4. ( ) 來到南台灣到處可以看到延平郡王廟宇香火鼎盛，延平郡王主要在紀念與祭祀鄭成功。七導老師群也入境隨俗進廟參拜祈求環島順利平安，以下有關鄭氏的敘述，哪些是正確的？

甲、驅逐荷蘭人，建立臺灣歷史上第一個漢人政權	乙、為抗敵人，不准任何船隻下海，嚴禁任何糧食闖海關	丙、臺南林鳳營地名與寓兵於農的拓墾政策有關	丁、設立孔廟開始推動文教，建立漢人典章文化制度
------------------------	---------------------------	-----------------------	-------------------------

(A) 甲乙 (B) 甲丙 (C) 甲丙丁 (D) 甲乙丙丁。

5. ( ) 來到了臺南第一級古蹟安平古堡，在 17 世紀初荷蘭人以軍商結合的隊伍，於 1624 年占領今日安平，並建熱蘭遮城為其防禦要塞，目前真正的荷蘭時期遺跡僅存古堡前方外城南城垣的磚牆。老榕盤根，無限滄桑，見證著近 400 年來臺江的歷史。老師們進入堡內參觀，看到了荷治時期「荷人在臺財務收支表」如下表所示：單位/gulden



年代	1640	1641	1643	1649	1653
純益 (利)	13,000	16,000	83,000	467,000	338,000

- (A) 蔗糖、稻米、鹿皮 (B) 蔗糖、稻米、香料
- (C) 蔗糖、鹿皮、香料 (D) 蔗糖、香料、絲綢。

二、單選題

6. ( ) 清代雍正皇帝批改某一官員奏摺，白話意譯如下：「經調查得知，臺灣府所屬四縣中，諸羅、鳳山、彰化三縣都是新住的百姓，全沒有妻子，這一類的人不但心裡沒有掛念，還敢於為非作歹。只要稍微有錢就隨便亂花，加上整天沒事，只有聚在一起喝酒賭錢，喝醉了、賭輸了，就共謀偷竊搶劫之事。如果他們有妻子，就會各自顧著養活妻子，那麼賭錢喝酒、花錢的事自然就會減少，為了保護家人，搶奪偷竊的想法自然就會消除了。」請問這位官員描述了當時臺灣哪些現象？

- (甲) 移民拓墾順利且社會安定
- (乙) 吸食鴉片與聚賭風氣盛行
- (丙) 男女人口比例出現嚴重失衡
- (丁) 羅漢腳眾多使社會秩序不佳。

(A) 甲乙 (B) 乙丁 (C) 丙丁 (D) 乙丙丁。

7. ( ) 清代臺灣在一場大規模民變後，乾隆皇帝為了紀念此事，一方面將諸羅改名為嘉義，一方面在府城外豎立了九座紀念碑紀錄，即為今日臺南赤崁樓內保存的「御龜碑」(如圖示)，乾隆皇帝所慶祝的是順利平定哪場民變？



- (A) 林爽文事件 (B) 郭懷一事件
- (C) 朱一貴事件 (D) 大肚王事件。



8. ( ) 八里區公所前廣場舉辦了年終前盛大的二手換物跳蚤市場，魯夫也來光顧得到了一本古書，他拿去請教歷史本文專家羅賓，居然發現這是一本從大航海時代留下的古董聖經！請問聖經內應該有哪兩種語言？







- (A) 漢文、新港文
- (B) 漢文、荷蘭文
- (C) 荷蘭文、新港文
- (D) 新港文、羅馬文。

9. ( ) 清代臺灣行政區劃經過數次改變，這些行政區劃圖的一連串變化，反映了什麼樣的統治特色？



- (A) 清廷針對臺灣經濟發展需求管理
- (B) 清軍勇猛善戰，逐漸擴大佔領區
- (C) 政府陸續將「熟番」、「生番」納入統治
- (D) 清廷因應民變與外力入侵調整行政區劃。

10. ( ) 住在臺南的芋擺老師為七導老師群安排了臺南古蹟饗宴之旅，其行程表如下：

首站	第二站
 (甲) 赤崁樓	 (乙) 德記洋行
第三站	第四站
 (丙) 台南孔廟	 (丁) 億載金城

上述參觀的景點，其在歷史上先後出現的順序，何者正確？

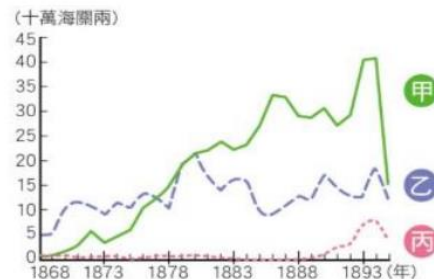
- (A) 甲→乙→丙→丁
- (B) 甲→丙→乙→丁
- (C) 丙→甲→乙→丁
- (D) 丙→甲→丁→乙。

11. ( ) 去年 2022 年底淡水古蹟博物館在虎年尾聲，將老虎轉化為受歡迎的超萌貓咪，結合淡水五虎崗地形特色，推出「喵之光波」主題活動，其中包含喵之古蹟隱身術，萌喵隱身在淡水海關碼頭帶領民眾穿梭了解 160 周年前的開港史，與馬偕來臺 150 周年讓來自西方的商人、貨物、習慣、宗教等一一落地，讓淡水這片港灣開出無數文化交融的煙花！請問造成淡水開港是下列清代對外哪場戰爭所影響？



- (A) 甲午戰爭
- (B) 清法戰爭
- (C) 大甲西社事件
- (D) 英法聯軍。

12. ( ) 附圖是臺灣開港通商後，占出口總值前三名商品的比較圖。甲、乙、丙分別代表哪三項商品？



- (A) 糖、樟腦、茶
- (B) 樟腦、茶、糖
- (C) 茶、樟腦、糖
- (D) 茶、糖、樟腦。

13. ( ) 農業開墾必須有灌溉設施的配合，才能使荒地變成良田。下列有關臺灣在清帝國時期，修築完成的水利灌溉工程及其灌溉區域的配對，何者正確？

- (A) 臺北地區→八堡圳
- (B) 鳳山縣城、打狗一帶→曹公圳
- (C) 臺中盆地→瑠公圳
- (D) 濁水溪沿岸→貓霧揀圳。

14. ( ) 走在台北車站，電視牆的新聞報導指出：「近年來台灣地區因為男女結婚人口數有相當大的落差，不少台灣男性無法在台灣找到對象，近五年來外籍結婚登記數，每年屢創新高，表示目前台灣男子不易在本地找到結婚對象。」回顧清朝前期也曾出現類似現象，以下哪句諺語最能反映當時此一現象？

- (A) 一個某卡贏三個天公祖
- (B) 六死三留一回頭
- (C) 唐山過台灣，心肝結歸丸
- (D) 三年一小反，五年一大亂。

15. ( ) 美國女子瑪莉來臺經商，經常往返臺、美兩地。後來，瑪莉與我國籍男子大霖相戀結婚，並於生下一子軒軒，下列對於軒軒國籍歸屬的敘述，何者正確？

- (A) 爸爸具有我國國籍，因此軒軒也會具有我國國籍
- (B) 軒軒必須先辦理歸化的手續，才能取得我國國籍
- (C) 因為媽媽是美國國籍，所以軒軒不具有我國國籍
- (D) 須先知道軒軒的出生地，才能確定有無我國國籍。

16. ( ) 金斯伯格是美國最高法院的女性大法官，她勇於對抗最高法院中以男性為首的保守力量，以及社會的性別刻板印象，其不畏強權的個性和風格，深受年輕人的歡迎。但金斯伯格大法官早期求職之路卻是處處碰壁，原因是很多公司認為，女性身分需要兼顧家庭，因此拒絕雇用她，根據前文判斷，金斯伯格最可能受到哪方面的不平等對待？(習作題)

(A)種族歧視(B)性騷擾(C)性霸凌(D)性別歧視。

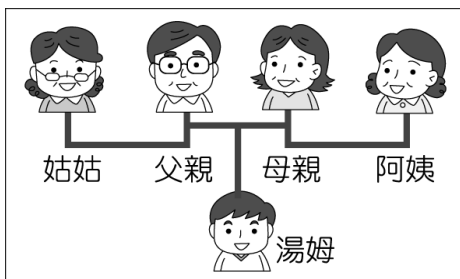
17. ( ) 近年來離島的馬祖地區人口外流嚴重，為了繁榮地方，2012年馬祖毅然舉辦公投，以過半的票數通過設立博奕特區。請問：上述之地方性公投，強調了《憲法》保障人民的哪項基本權利？

(A)平等權(B)自由權(C)受教育權(D)參政權。

18. ( ) 「當你有了先入為主的觀念，你看人家的眼光便不同了，例如：你懷疑某人偷東西，於是他的一舉一動你看起來都像做了壞事，你對他的態度和行為也開始產生主觀、偏頗的成見，這對他而言是不公平的。」以上所要表達的主旨，最接近下列何者？

(A)被懷疑者應證明自己的清白  
(B)偏見易導致對人性尊嚴的侵犯  
(C)犯錯者的人權可用法律予以剝奪  
(D)對他人的看法屬於個人自由。

19. ( ) 根據下圖內容判斷，下列對於親屬關係的說明何者正確？



(A)父親和母親為姻親  
(B)父親和阿姨為擬制血親  
(C)母親和阿姨為直系血親  
(D)湯姆和姑姑為旁系血親。

20. ( ) 附圖是小圓為家族旅行所規畫的房間分配情況。若小圓的房間兩旁，分別住了自己的直系血親與旁系血親，根據圖中內容判斷，她最可能是住在哪一個房間？【102基測】



(A)甲(B)乙(C)丙(D)丁。

21. ( ) 汽車廣告台詞：「人生路上，你選擇什麼樣的道路，家人就會看見什麼樣的風景，乘載家人的舒適旅程，你會需要大空間，座位5+2，三代同堂幸福感更是加分。」請問：上述汽車廣告主要針對何種家同型態作為訴求？(A)頂客家庭(B)核心家庭(C)折衷家庭(D)擴展家庭。

22. ( ) 根據我國法律規定，若受暴母親欲達成法律上的隔離效力，可供受害者尋求協助的機關，及此機關所能採行的因應作為，下列配對組合何者正確？

【109會考改寫】

(A)地方法院、核發保護令  
(B)警察機關、核發保護令  
(C)社會局、宣告停止親權  
(D)警察機關、宣告停止親權。

23. ( ) 自治會議中提出的議案經由充分討論，主席宣布表決時，必須依照下列何種原則，由表決的票數最高者當選？

(A)導師決定(B)主席決定  
(C)先提名先表決(D)先提名後表決。

24. ( ) 下圖中甲、乙、丙、丁哪兩位同學的發言符合會議規範的規定？(107會考)

現在我宣布會議開始，請各位同學保持安靜。	會議一開始我們先進行臨時動議，有沒有同學要提臨時動議？	甲	我要提權宜問題，應該進行提案討論。
噓	噓	乙	我要提權宜問題，應該處理目前場內喧嘩問題。
		丙	我要提秩序問題，應該進行提案討論。
		丁	我要提秩序問題，應該處理目前場內喧嘩問題。

(A)甲、丁(B)乙、丙(C)甲、丙(D)乙、丁。

25. ( ) 下課時間，大華和小威為了籃球場地而發生爭執，大華一怒之下辱罵了小威，之後便到處去說小威的壞話，讓小威覺得名譽受損，請問大華已侵犯了小威的何種權利？

(A)學習權(B)財產權(C)身體自主權(D)人格發展權。

26. ( ) 學期初的第一次班會課，王老師要求班上同學做好下列事項，其中哪一項屬於學生自治的範圍？

【90基測二】

(A)訂定班級生活公約(B)提擬個人讀書計畫  
(C)準時繳交各科作業(D)穿著制服到校上課。

27. ( ) 位於南海的太平島是臺灣最遠的離島，行政範圍隸屬高雄市所管，目前有海巡人員駐紮該島，以確保臺灣的實質控制權。請問：將此島納入版圖可以帶來哪項重要的效益？

(A)島上資源豐富可開採  
(B)興建商業港口增加貿易  
(C)面積廣大適合農業發展  
(D)增加經濟海域範圍。

28. ( ) 下表為中央氣象局112年10月11日的地震報告部分紀錄，其中哪一項是相對位置的描述？

(甲)時間18時36分56秒  
(乙)地置北緯23.25度、東經121.34度  
(丙)震央在花蓮縣政府南南西方86.9公里處  
(丁)花蓮縣紅葉4級、新北市五股1級

(A)甲(B)乙(C)丙(D)丁。



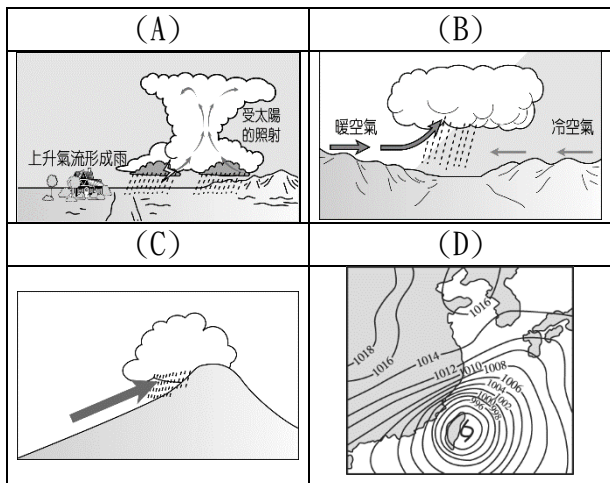
29. ( ) 澎湖縣 2021 年降水日數 41 天，是臺灣降水日最少的地區，也是該站設站以來最少雨日的一年；而其年降水量 788 mm 左右，亦為臺灣相對降水較少的區域。請問：造成澎湖年降水量少的主因為何？

- (A) 夏季涼爽對流雨不盛
- (B) 地勢低平無法攔截水氣
- (C) 位於東北季風的背風側
- (D) 緯度高水氣難蒸發致雨。

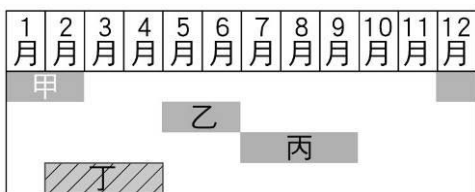
30. ( ) 2016 年的「巴西里約奧運」，熱鬧的閉幕式吸引了許多觀眾欣賞。當時臺灣的電視臺在巴西進行實況轉播，巴西當地的中央時區為西經 45°。請問：巴西與臺灣兩地的時間相差幾個小時？

- (A) 3 小時 (B) 5 小時 (C) 8 小時 (D) 11 小時。

31. ( ) 歌手孫燕姿的成名曲「天黑黑」的歌詞節錄如下：「我的小時候，吵鬧任性的時候，我的外婆總會唱歌哄我，夏天的午後，老老的歌安慰我，那首歌好像這樣唱的…天黑黑，欲落雨，天黑黑，黑黑……」歌詞中提及夏天午後天空烏雲密布就要下雨的情景，應該是哪種降雨的形式？



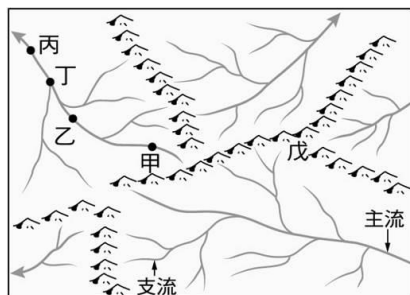
32. ( ) 臺灣氣候宜人，居住環境佳，但偶爾還是會出現天氣災害。下圖是臺灣四種天氣災害常發生的國曆



月分，下列何者最可能是丁災害的新聞標題？

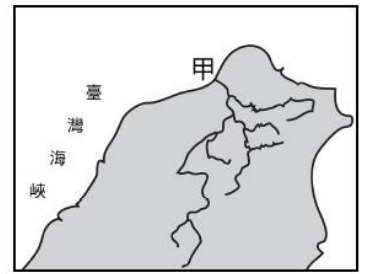
- (A) 南臺灣又缺水！南部夜間減壓供水
- (B) 天寒又地凍，明早氣溫將下探 8 度
- (C) 風速破紀錄！大家做好防颱準備
- (D) 鋒面報到，降雨天氣將持續一週。

33. ( ) 下圖是某地區的水系圖，地理老師利用此張地圖介紹有關水系的基本概念。請問下面哪一個敘述是正確的？



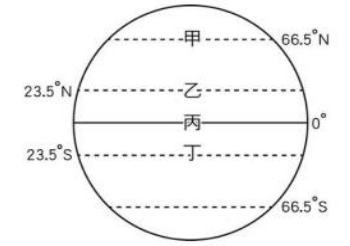
- (A) 甲點所在之處是該河川的下游
- (B) 丁點的集水區範圍比甲點小
- (C) 戊點所在之處是分水嶺
- (D) 圖中應該共有 3 個水系。

34. ( ) 右圖為臺灣甲河川的流域圖。請問下列何者是該河川的水文特色？



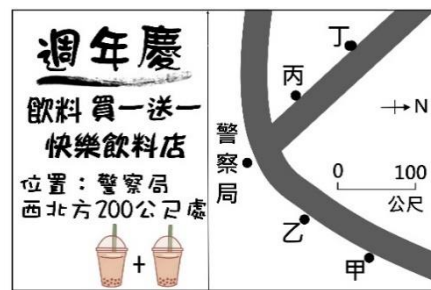
- (A) 主流長度全臺第一
- (B) 屬於荒溪型河川
- (C) 翡翠水庫及石門水庫位於該流域內
- (D) 流域面積全臺第一。

35. ( ) 地理課時老師請同學解讀右圖的重要地理概念，請問哪一項是正確的？



- (A) 悠仁：甲為溫帶、熱帶的分界
- (B) 夏油：太陽的直射點在乙到丁間來回移動
- (C) 五條：乙通過臺灣的澎湖縣、嘉義縣、宜蘭縣
- (D) 狗卷：丙又稱為本初子午線。

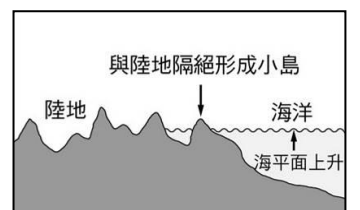
36. ( ) 市面上飲料店林立，為吸引顧客上門，快樂飲料店推出促銷方案，如右圖，快樂飲料應該位於圖中何處？ (A) 甲 (B) 乙 (C) 丙 (D) 丁。



37. ( ) 下列有關臺灣的地形特徵，阿希寫下的筆記內容中何者完全正確？

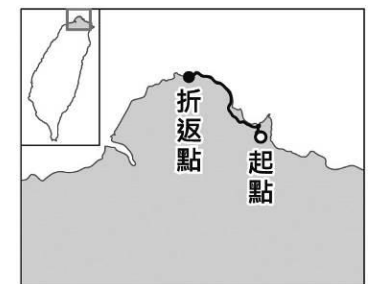
- (A) 板塊交界處位於東部地區，火山、地震活動較頻繁
- (B) 平原所占比例大，為人口集中的精華區
- (C) 臺灣地質年代年輕，起伏較為平緩
- (D) 臺灣島為東西狹長的島嶼，山脈呈現南北走向。

38. ( ) 右圖為某種島嶼的成因圖，根據形成原因判斷，其最有可能是下列哪一組島嶼？



- (A) 東沙島、太平島
- (B) 金門列嶼、馬祖列嶼
- (C) 綠島、澎湖群島
- (D) 琉球嶼、蘭嶼。

39. ( ) 右圖為臺灣某次馬拉松比賽路線圖，參賽者在路跑過程中，最可能看到下列何種景觀？

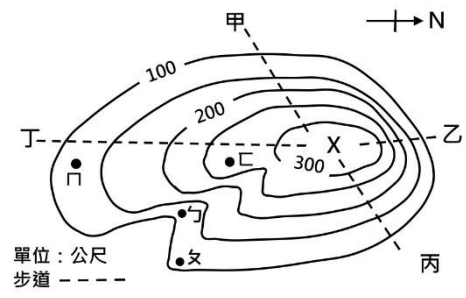


- (A) 瀉湖、沙洲遍布
- (B) 岬角與海灣相間
- (C) 大規模的隆起珊瑚礁
- (D) 陡直的峭壁、深切的峽谷。

40. ( ) 等高線地形圖是常見的地形表示方式，請根據下圖資訊，選出最為正確的敘述？

- (A) 此等高線圖間距為 100 公尺
- (B) 圖中地形的標高點 X 可能是 370 公尺
- (C) 圖中的 ㄅ 點位於山脊

(D)圖中的乙步道最為陡峭難行。



\*解答

1	2	3	4	5	6	7	8	9	10
B	C	C	B	A	C	A	C	D	B
11	12	13	14	15	16	17	18	19	20
D	D	B	A	A	D	D	B	D	D
21	22	23	24	25	26	27	28	29	30
C	A	C	B	D	A	D	C	B	D
31	32	33	34	35	36	37	38	39	40
A	A	C	C	B	D	A	B	B	D