

# 新北市八里國民中學 112 學年度第一學期八年級社會科補考題庫(40 題抽 20 題)

## 公民


- ( ) 1. 同學們正在觀賞外國的影集，附圖中的劇情內容不會在我國發生，這是因為我國中央政府體制採用何種做法？



- (A) 將行政權從監察權中獨立出來 (B) 將立法權從司法權中獨立出來 (C) 將監察權從立法權中獨立出來 (D) 將考試權從行政權中獨立出來。
- ( ) 2. 生活在民主國家之中，下列關於「權利」與「權力」的敘述，何者正確？ (A) 言論自由是人民享有積極的「權利」 (B) 要求人民納稅是政府的「權利」 (C) 政府的「權力」來自人民的授權 (D) 人民的「權力」具有強制性。
- ( ) 3. 政府的權力必須受到憲法和相關法律加以規範限定，以避免政府濫權而隨意侵犯人民的權利。從上述內容可見民主國家政府間運作的何種概念？ (A) 主權在民 (B) 有限政府 (C) 民意政治 (D) 定期選舉。
- ( ) 4. 大毛跟同學一起玩「建立王國」的遊戲，誰能完整取得象徵各項國家組成要素的寶物，就是贏家。若大毛已取得象徵國家主權的寶物，他應再取得附圖中哪一組寶物才能在遊戲中獲勝？



- (A) 甲 (B) 乙 (C) 丙 (D) 丁。
- ( ) 5. 對於我國中央政府與地方政府的分權方式如下：請問地方政府擁有的甲、乙兩種治權，分別是指出下列何者？
- (A) 行政權、立法權 (B) 行政權、司法權 (C) 考試權、監察權 (D) 考試權、立法權。
- ( ) 6. 右下圖是我國中央政府某院在其官方網站上發布的新聞稿。根據圖中內容判斷，該院依其職權，最可能在其網站中也發布下列何項訊息？



- (A) 108 年度決算報告已完成審定 (B) 12 月將要舉辦地方公務人員高等考試 (C) 公布法律與命令 (D) 提出總統副總統彈劾案。

- ( ) 7. 生長於「嘉義市」的網紅蔡阿嘎拍片介紹嘉義的美食代表—雞肉飯，影片發布後不少網友在影片下方留言分享自己家鄉的美食。以下是網友們分享各自家鄉的在地美食，請選出地方層級與蔡阿嘎家鄉相同的選項？

(A) LuLu:「我們『台中市』的太陽餅聞名遐邇，好吃！」 (B) 崑崙:「在『台南市』必吃鱔魚意麵啊！」 (C) 千千:「美食水水千千要推薦的是『彰化縣』的肉圓。」 (D) 大謙:「來我們『新竹市』必吃米粉貢丸湯。」

- ( ) 8. 我國經費編列與審查的規定如下：  
(甲) 編列中央政府總預算→交付(乙) 審查→(甲) 執行預算，做成決算→(丙) 審核決算後→赴(乙) 提出決算審核報告。請問(甲)(乙)(丙)分別為下列何者？

(A) 行政院、立法院、監察院 (B) 總統、立法院、監察院 (C) 行政院、監察院、立法院 (D) 行政院、立法院、司法院。

- ( ) 9. 米安:「我昨天看電視新聞報導，某政府官員到立法院進行施政報告時，被立委們質詢得毫無招架的餘地。」請問:某政府官員最不可能是下列何者？ (A) 國防部長 (B) 法務部長 (C) 行政院長 (D) 台北市市長。

- ( ) 10. 附表呈現阿森在近三屆我國總統選舉資格的變化情形。根據表中內容判斷，阿森在第 14 屆至第 15 屆之間，最可能發生了下列哪一件事？

屆次	總統選舉參選資格	總統選舉投票資格
13	不具備	具備
14	不具備	具備
15	不具備	不具備

- (A) 被政黨開除黨籍 (B) 遷移戶籍至其他縣市 (C) 遭法院監護宣告 (D) 遭法院判處褫奪公權。
- ( ) 11. 嘉維今年剛滿 18 歲，是淡江大學土木系的新鮮人，下列有哪些政治活動是他可以參與的？ (甲) 投票選出立法委員 (乙) 參加公投 (丙) 線上觀賞總統候選人辯論會 (丁) 投書媒體表達對違建的看法。

(A) 甲乙丙丁 (B) 甲丙丁 (C) 乙丙丁 (D) 甲乙丙。

- ( ) 12. 有關我國選舉投票與公民投票的比較，下列何者正確？

(A) 選舉投票選政策，公民投票選人 (B) 兩者皆要具有中華民國國籍才能投票 (C) 公民投票需要連續居住該地 4 個月以上，而選舉則不用 (D) 選舉投票和公民投票的法定年齡皆為 18 歲。

- ( ) 13. 公共意見又稱為民意，是指民眾針對公共事務政府政策等議題，公開表達的集體意見。根據此定義，下列何者較可能成為公共意見？

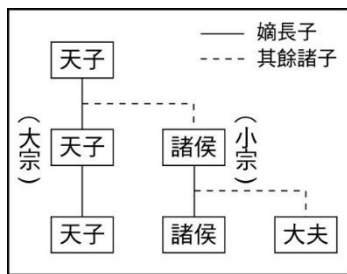
(A) 佳欣向同學們分享讀社會的技巧 (B) 芷安與弟弟討論最新一集的動漫 (C) 雨涵在網路上分享日本北海道旅行 (D) 品珈在網路上發表美國豬肉進口的想法。

- ( )14.文中提到「2015年沙烏地阿拉伯首次開放女性投票和參選」，就我國《憲法》規定的投票基本原則，此明顯違反下列何種原則？  
 (A)直接原則 (B)平等原則  
 (C)普通原則 (D)無記名原則。

**歷史** 題組

阿航與小海這對好朋友，分別吃下神奇果實成為能力者，阿航擁有時空果實具有穿越時空的能力；小海擁有模仿果實具有模仿他人外貌聲音的能力，他們兩人都對中國歷史朝代極感興趣！藉由彼此的超能力互助，從21世紀穿越到中國歷代進行豐富的遊歷~(回答15-18題)

- ( )15.他們首先穿越到一座宮殿，認識了宮中的小金，小金的母親是天子後宮最受寵愛的妃嬪，(妃嬪：是指君主經過冊封的妾室。)而且小金還是天子的第一個兒子，小金拿出繼承圖表如下：



根據上圖中的制度，請判斷他們遇到的小金應該繼承何種貴族封號？

- (A)士 (B)大夫 (C)諸侯 (D)天子。  
 ( )16.他們接著穿越到東周時代，民間有許多思想家爭鳴高唱自己的主張，請依據下列敘述判斷思想學派：

 甲：國家是否富強，關鍵在於國君能否掌控權力，人民相信國君會懲罰惡行，人民就不會去做姦邪之事。	 乙：個人與自然融為一體，從大自然去領悟人生的哲理主張順其自然，擺脫塵世煩惱快樂自在。
 丙：熱心籌畫參與各種反戰活動，主張兼愛，愛無差別等級，不分厚薄親疏。	 丁：著重君子的品德修養，強調仁與禮相輔相成，重視五倫，提倡教化和仁政。

- (A)甲：法家/乙：儒家/丙：墨家/丁：道家  
 (B)甲：法家/乙：道家/丙：儒家/丁：墨家  
 (C)甲：法家/乙：道家/丙：墨家/丁：儒家  
 (D)甲：墨家/乙：道家/丙：法家/丁：儒家。


- ( )17.他們穿越到了北魏時期，認識了一位胡人拓跋雄偉正在餐館與朋友聊起目前朝廷實施的『漢化』措施。請問：下列他們的對話何者符合史實？  
 (A)拓跋雄偉：「我們匈奴大汗是推行漢化最徹底的，對胡漢融合貢獻很大。」  
 (B)拔拔玉兒：「陛下為了學習漢文化，將首都遷至洛陽，我們也要跟著搬家了。」  
 (C)丘穆陵香：「我昨天試穿了朝廷鼓勵換穿的鮮卑族服飾，挺好看的。」  
 (D)獨孤求敗：「皇帝禁止我與漢族的姑娘結婚，害得我心裡好難過。」

- ( )18.阿航與小海穿越到石器時代尋找住在洞穴裡的『山頂洞人』想跟著他們體驗遠古生活，以下哪一生活情境敘述符合當時？  
 (A)以知用火烹煮食物，食物來源取之於自然  
 (B)使用磨製石器、燒製陶器盛裝食物和飲用水  
 (C)會種植穀物，飼養動物，過穩定的村落生活  
 (D)農業發達，使用青銅器製作兵器和祭祀禮器。  
 ( )19.八年級校定課程戲劇工作坊，要演出歷史大劇，劇中人物出現的台詞如下

甲角色：「我出身平民，了解民生疾苦，擊敗群雄建立新國家，定都於應天。」  
 乙角色：「我自認是名忠臣，欲將國君從敵營救回屢次大破金兵，無奈當今皇帝一意求和，下了多道金字牌命令我退兵，只好班師回朝。」  
 丙角色：「我將『論語』、『孟子』、『大學』、『中庸』集成成注，沒想到會成為元朝以後科舉考試用書。」  
 丁角色：「我是文武雙全的國君，也是史上在位最長的君主，派施琅攻克臺灣，進而將臺灣納入版圖。」

依據以上四則資料應該分別為何人？

- (A)甲：朱棣、乙：鄭和、丙：朱熹、丁：乾隆  
 (B)甲：朱棣、乙：鄭和、丙：畢昇、丁：乾隆  
 (C)甲：朱元璋、乙：岳飛、丙：畢昇、丁：康熙  
 (D)甲：朱元璋、乙：岳飛、丙：朱熹、丁：康熙。  
 ( )20.下圖是某機構的性質及工作內容示意圖。據此判斷，該機構最可能是下列何者？



- (A)驛站  
 (B)洋行  
 (C)市舶司  
 (D)專業市鎮。  
 ( )21.炭治郎參觀歷史博物館時，看到博物館中對某人物介紹如下：

※他與中國士大夫合譯的書籍，帶來許多先進的知識與哲學思想。  
 ※他學習漢語，穿儒服，打扮的像一個中國的讀書人。  
 ※西方的天主教徒視他為偉大的傳教士，東方認為他是一個促進東西交流的科學家。

請問他參觀的展覽主題為下列何者？

- (A)徐光啟：中西文化交流的使者  
 (B)利瑪竇：中國近代科學啟蒙者  
 (C)馬雅各：首位以醫療入臺傳教的傳教士  
 (D)馬偕：十九世紀在臺灣北部傳教的傳教士。



- ( ) 22. 十五世紀歐洲新航路開通後，紛紛來到東亞尋找貿易據點，世界經貿日益發達，請判斷出下列哪一組物品符合流入中國？



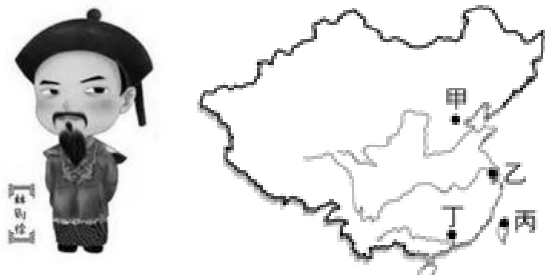
- (A) 茶葉、鴉片 (B) 白銀、番薯  
(C) 絲綢、瓷器 (D) 白銀、蓬萊米。

- ( ) 23. 去年 2022 年底淡水古蹟博物館在虎年尾聲，將老虎轉化為受歡迎的超萌貓咪，結合淡水五虎崗地形特色，推出「喵之光波」主題活動，其中包含喵之古蹟隱身術，萌喵隱身在淡水海關碼頭帶領民眾穿梭了解 160 周年前的開港史，與馬偕來臺 150 周年讓來自西方的商人、貨物、習慣、宗教等一一落地，讓淡水這片港灣開出無數文化交融的煙花！請問造成淡水開港是下列清代對外哪場戰爭所影響？



- (A) 英法聯軍 (B) 鴉片戰爭  
(C) 甲午戰爭 (D) 八國聯軍。

- ( ) 24. 最近新聞經常報導，藝人們因為沾染毒品，讓努力辛苦建立的形象崩壞，造成事業一落千丈的消息。身為公眾人物，卻做出最不好的示範，對社會影響很大。此事件不禁讓人聯想到，十九世紀危害中國甚鉅的鴉片問題。清朝政府曾派林則徐前往何地查禁鴉片，因而有禁煙節的紀念由來？



- (A) 甲地 (B) 乙地 (C) 丙地 (D) 丁地。

- ( ) 25. 清末，年輕一代的知識分子試著喚起婦女覺醒，並通過文學作品和報刊引起公眾注意。開始有人贊同婚姻自主，有些女性也要求參與國家政治。請判斷當時的婦女可以做下列哪些事？

- 甲：到城市的新式學堂學習  
乙：到租界的百貨公司工作  
丙：前往美利堅合眾國留學  
丁：競選公職出任國家領袖

- (A) 甲乙丙 (B) 甲乙丁  
(C) 甲丙丁 (D) 甲乙丙丁。

- ( ) 26. 跨年夜時社會科老師們連線齊聚玩『清末間諜與特務』的遊戲，規則如圖所示：

五人制『間諜與特務』遊戲規則

1. 特務：三位扮演，提供正確的情報。
2. 間諜：一位扮演，提供錯誤的情報。
3. 局長：一位扮演，揪出提供錯誤情報者。


所有老師們的情報都在描述中國的某地，由庭舒擔任「局長」，她根據下列選項中的描述，找出扮演「間諜」為何者？

- (A) 英惠老師：在英法聯軍時首次被西方國家武力入侵，圓明園慘遭焚毀破壞。  
(B) 孟芸老師：發生燒教堂、殺害傳教士及外國公使慘事，引發八國聯軍出兵攻陷。  
(C) 芳儀老師：在某次變法運動中而設立京師大學堂，此次變法僅維持百日左右告終，但此教育機構現今依然存在運作。  
(D) 電腦小獸：此地有十里洋行的美名，中國人與外國人雜居，商人聚集風氣奢華，到處都有戲院、酒樓、茶館，燈山酒海。

地理

- ( ) 27. 「日本北海道原為阿伊努族居住地，因而有許多景點的地名由來與該族語言有關。例如以花海風景聞名的『美瑛』、『富良野』，在阿伊努族語分別是『油脂』、『臭臭的』等意思，因為附近河川侵蝕鄰近旭岳的硫磺，所以河川看起來混濁且帶有硫磺味，旭岳溫泉為北海道 10 大必去的溫泉景點之一。」引文關於北海道景點地名由來的敘述，與當地何項環境特色關係最為密切？ (A) 位於日本北端 (B) 黑潮與親潮交會 (C) 屬於溫帶季風氣候 (D) 位於火山地震帶。

- ( ) 28. 2021 年，中國最新人口普查顯示，男性比女性多 3590 萬人，其中分布在 20-40 歲適婚年齡的男性比女性多 1752 萬人。

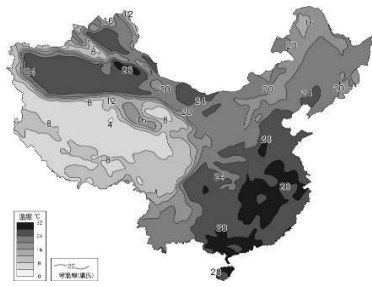


讓男性遭遇婚姻市場競爭激烈、甚至找不到配偶，而形成所謂的「剩男」現象。請問：造成上述現象的主因為下列何者？ (A) 城鄉發展差距大 (B) 提早進入高齡化 (C) 實施一胎化政策 (D) 人口分布不平均。

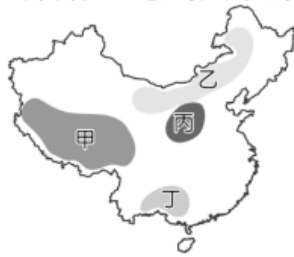
- ( ) 29. 2021 年 7 月底，南韓的文化體育觀光部宣布將 Kimchi 的正式華文譯名訂為「辛奇」，起因是由於前一年中國向國際標準化組織 (ISO) 申請認證四川泡菜為市場標準而引起的泡菜宗主國之爭，南韓民間甚至發起聯署，要求中國停止盜竊韓國文化。請問：上文中朝鮮半島的泡菜文化，主要是受到下列何項因素影響？ (A) 地形山多平原少，農業不盛 (B) 冬季嚴寒，不利蔬菜生長 (C) 地震頻繁，泡菜可當災難物資 (D) 寒暖流交會，漁產豐富。

- ( ) 30. 中國某一跨海大橋於 2018 年完工，其連結了中國兩個特別行政區及一個經濟特區，可縮短往來三地的距離，及強化三地經濟社會的交流。上述跨海大橋應位於下列哪條河川的出海口？ (A) 黃河 (B) 海河 (C) 長江 (D) 珠江。

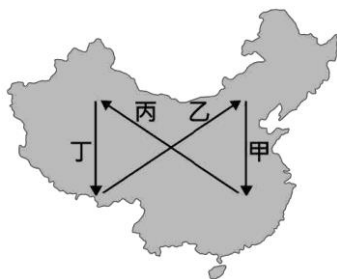
- ( ) 31. 右圖為中國7月均溫等溫線圖，可看出中國夏季氣溫的分布具有地區性差異。請問：圖中西南部明顯氣溫較低，主要是受到下列何項因素影響？  
(A) 風向 (B) 地形 (C) 海陸位置 (D) 距海遠近。



- ( ) 32. 陝西省米脂縣主要由顆粒細緻的黃土所組成，不僅在冬季強風吹拂時，漫天塵土飛揚影響空氣品質；在20世紀90年代初，水土流失面積高達838.6平方公里，佔全縣總土地面積的69.19%。尤其是米脂縣高西溝村，更有「上面光禿禿，下面黃水流，年年遭災害，十年九不收」之說，此地過去水土流失嚴重、百姓生活艱難。請問上述地點應位於圖中何處？  
(A) 甲 (B) 乙 (C) 丙 (D) 丁。

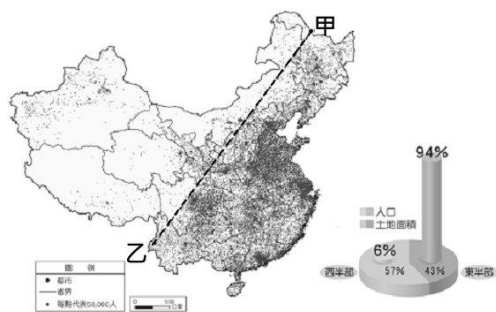


- ( ) 33. 中國的氣候受地形、緯度、距海遠近等因素影響，而有空間上的差異。右圖中甲、乙、丙、丁哪一路線夏季氣候的空間變化趨勢，具有明顯的「由溼熱，變乾熱」的特性？  
(A) 甲 (B) 乙 (C) 丙 (D) 丁。



- ( ) 34. 子瑜提到《寄生上流》劇中描述南韓社會的貧富差距極大，這其實與南韓的經濟發展策略有關。請問下列關於南韓的經濟發展狀況何者正確？  
(A) 政府政策以扶植大型財團為主 (B) 長期重視國防工業，忽略民生工業 (C) 政府重視中小企業發展，鼓勵創業 (D) 國內產業空洞化情況嚴重，失業率高。

- ( ) 35. 下圖為中國人口分布圖，人口分布與密度呈現明顯的區域差異，大致以圖上甲乙兩地連線為界分成兩區。根據該圖，下列敘述何者正確？



- (A) 甲乙分界為秦嶺、淮河連線，人口呈現東密西疏  
(B) 此線以東為季風氣候，以西為乾燥與高地氣候  
(C) 此線以東多高原與山地，以西多平原與丘陵  
(D) 此線以東經濟發展程度較低，以西較高。

- ( ) 36. 中國於一九七〇年代末推動的改革開放政策，帶動經濟快速成長，但是卻加深區域發展失衡現象。下列關於中國的新聞報導，何者最能反映中國區域發展不均的現象？  
(A) 今年出現的多起沙塵暴，已直接威脅北京、上海及南京等大都市  
(B) 推動海上絲路計畫，發展從中國沿海港口經印度洋至歐洲的航線  
(C) 農曆春節將擁現數億人次返鄉人潮，堪稱地表最大規模的人口移動  
(D) 南方近年降雨減少，旱象環生，南水北調將威脅南方用水的供應量。
- ( ) 37. 下圖為近年來中國廠商占蘋果公司的手機200大零件供應商數量變化。請問：中國手機零件供應商數量的變化，可反映該國的哪一發展特色？

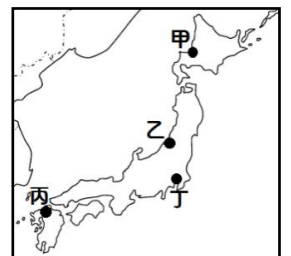


- (A) 從世界工廠變成世界市場 (B) 零件轉包至其他國家生產 (C) 工資提高使生產成本上升 (D) 國內供應鏈愈趨完整。
- ( ) 38. 右圖為中國「北上廣深」四大都市的地理位置標示，請問：下列關於甲乙丙丁的敘述，哪一個正確？  
(A) 甲都市：是中國的政治中心、高科技產業中心，更被譽為中國矽谷  
(B) 乙都市：設立經濟特區後，迅速發展，目前轉型高科技。  
(C) 丙都市：位在長江出海口，腹地廣地，是中國的經濟中心  
(D) 丁都市：廣東省的行政中心，為中國南部重要的水陸交通樞紐。



- ( ) 39. 見右圖，日本氣象株式會社每年年初都會公布國內各地賞櫻時間的分布圖。圖中各地的賞櫻日期的分布狀況與下列那些因素較為相關？  
(甲) 緯度 (乙) 地形 (丙) 雨量 (丁) 季風  
(A) 甲乙 (B) 甲丙 (C) 甲丁 (D) 乙丁。

- ( ) 40. 新潟市位於本州島，受冬季季風帶來海洋水氣的影響，嚴寒與暴雪讓此地積雪量甚多，因而有「雪國」之稱。請問：新潟市最有可能位於右圖何處？  
(A) 甲 (B) 乙 (C) 丙 (D) 丁。



解答

1	2	3	4	5
D	C	B	C	A
6	7	8	9	10
A	D	A	D	C
11	12	13	14	15
C	B	D	C	C
16	17	18	19	20
C	B	A	D	C
21	22	23	24	25
B	B	A	D	A
26	27	28	29	30
D	D	C	B	D
31	32	33	34	35
B	C	C	A	B
36	37	38	39	40
C	D	A	A	B